

Thứ hai ngày 9 tháng 3 năm 2020

Toán

**Phần 1. Trắc nghiệm**

**Câu 1:** Trong phép tính:  $85 - 67 = 18$ , số 67 được gọi là:

- A. Số bị trừ                      B. Số hạng                      C. Số trừ                      D. Hiệu

**Câu 2:**  $45\text{dm} - 18\text{dm} = ?$

- A. 37cm                      B. 27dm                      C. 37dm                      D. 27cm

**Câu 3:**  $16 + 27 - 35 = \dots$

Số cần điền vào chỗ chấm là:

- A. 43                      B. 78                      C. 8                      D. 18





**Câu 4:** Nối hai đồng hồ có cùng thời gian:

1 giờ chiều

9 giờ tối

11 giờ đêm

5 giờ chiều



21:00

17:00

13:00

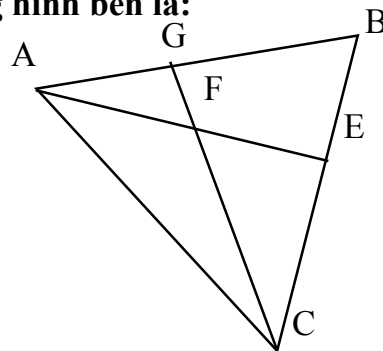
23:00

**Câu 5:** Một khu vườn có 64 cây táo, sau khi bán đi một số cây táo thì khu vườn còn lại 18 cây táo. Hỏi có bao nhiêu cây táo đã được bán đi?

- A. 82 cây táo                      B. 46 cây táo                      C. 72 cây táo                      D. 56 cây táo

**Câu 6:** Số bộ ba điểm thẳng hàng có trong hình bên là:

- A. 3                      B. 5  
C. 4                      D. 6



**Phần 2. Trắc nghiệm**

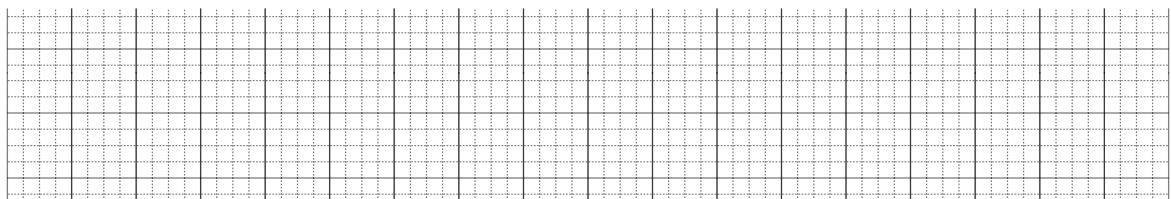
**Bài 1:** Đặt tính rồi tính

$8 + 92$

$51 - 28$

$63 + 29$

$100 - 76$







## Tóm tắt

## Bài giải

**Bài 4: Hằng ngày mẹ làm việc ở nhà máy từ 8 giờ sáng tới 16 giờ. Hỏi hằng ngày mẹ làm việc ở nhà máy bao nhiêu giờ?**

**Bài 5: Tổ 1 có 8 bạn học sinh, cô giáo tặng cho mỗi bạn 2 quyển vở. Hỏi tổ 1 nhận được bao nhiêu quyển vở?**

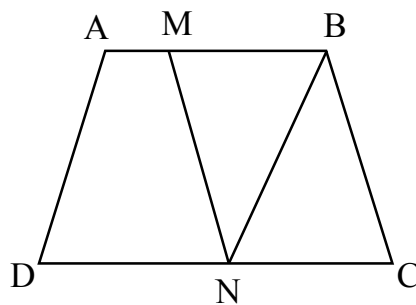
## Tóm tắt

# Bài giải

## Bài 6: Hình bên có:

... hình tam giác

... hình tứ giác



**Thứ tư ngày 11 tháng 3 năm 2020**

# Toán

## Phần 1. Trắc nghiệm

**Câu 1: Kết quả của phép cộng  $45 + 37$  là:**

- A. 72                      B. 82                      C. 83                      D. 8

**Câu 2: Kết quả của phép trừ  $73 - 15$  là:**

- A. 68                      B. 57                      C. 58                      D. 88

**Câu 3: Viết tiếp vào chỗ chấm:**

Ngày 1 tháng 1 năm 2009 là thứ năm. Thứ năm tuần ngay sau đó là ngày...tháng ...

**Câu 4: Kết quả tính  $5 \times 5 + 7$  là:**

- A. 17                      B. 27                      C. 32                      D. 23

**Câu 5:  $3\text{dm} \times 3 = \dots \text{cm}$**

**Số cần điền vào chỗ chấm là:**

- A. 6                      B. 90                      C. 90cm                      D. 60dm

**Câu 6: Mỗi nhóm có 4 học sinh. Hỏi 10 nhóm như thế có bao nhiêu học sinh?**

- A. 20 hoc sinh      B. 30 hoc sinh      C. 40      D. 40 hoc sinh

## Phần 2. Tự luận

## Bài 1: Đặt tính rồi tính:

$$37 + 35 + 18$$

$$42 + 9 + 15$$

$$25 + 25 + 25 + 25$$

$$14 + 14 + 14$$

A large grid of graph paper, 20 units wide and 20 units high. A bold vertical line runs down the center, separating the left and right halves. A bold horizontal line runs across the middle, separating the top and bottom halves. This creates four quadrants, each measuring 10 units by 10 units. The grid lines are thin and light gray, while the quadrant lines are thick and black.

## Bài 2: Thực hiện dãy tính:

$$4 \times 7 + 5$$

$$4 \times 5 + 27$$

$4 \times 8 - 9$

$4 \times 9 - 28$

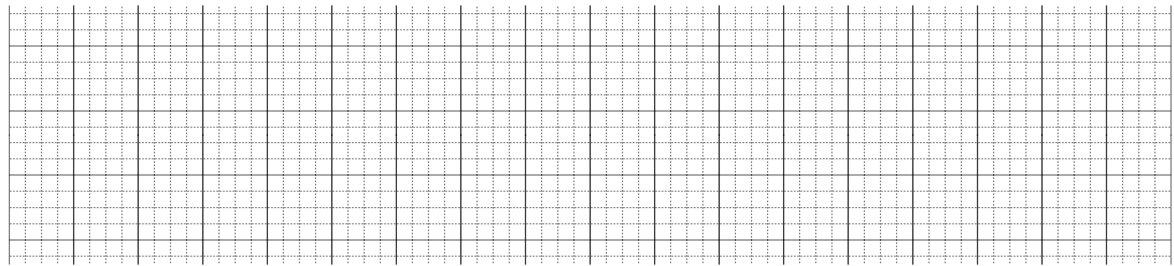
A large grid of graph paper, 30 units wide and 15 units high. A vertical line runs down the center, dividing the grid into two 15-unit wide sections. A horizontal line runs across the middle, dividing the grid into two 7.5-unit high sections. This creates four quadrants, each measuring 15 units by 7.5 units. The grid lines are thin and light gray, while the central vertical and horizontal lines are slightly thicker and darker.

**Bài 3: Tìm  $x$**

$$x + 25 = 90 - 47$$

$$39 + x = 49 + 8$$

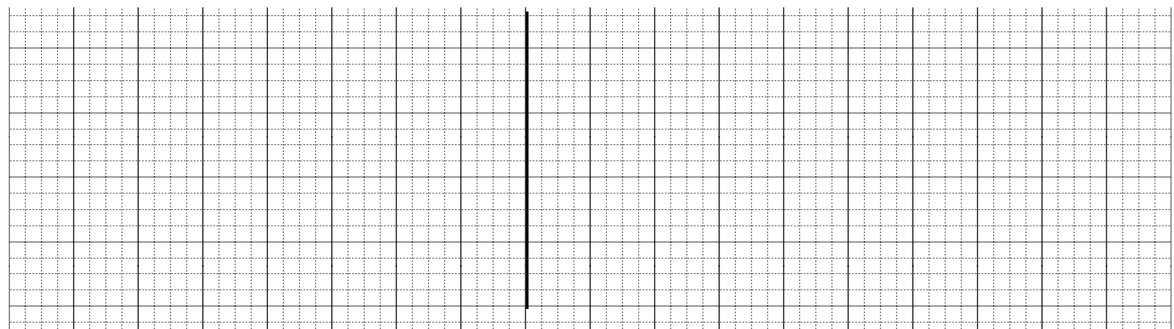
$$x - 43 = 19 - 11$$




**Bài 4: Mỗi bạn học sinh giỏi được thưởng 4 quyển vở. Hỏi 9 bạn học sinh giỏi được thưởng tất cả bao nhiêu quyển vở?**

Tóm tắt

Bài giải



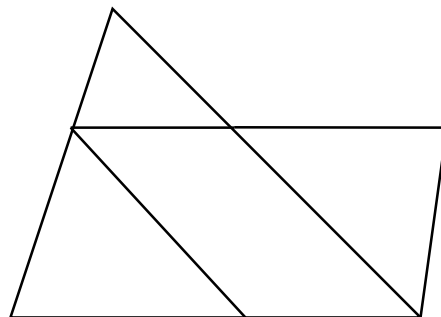
**Bài 5: Tổng của hai số là số lớn nhất có hai chữ số khác nhau. Biết số hạng thứ nhất là 47. Tìm số hạng thứ hai.**



**Bài 6: Hình bên có:**

... hình tam giác

... hình tứ giác

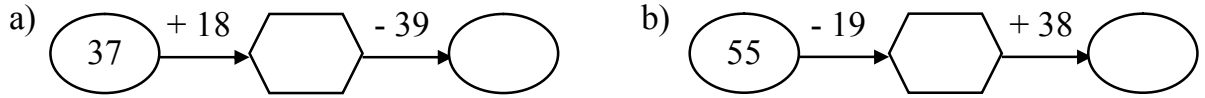


Thứ năm ngày 12 tháng 3 năm 2020

**Toán**

**Phần 1. Trắc nghiệm**

**Câu 1: Số?**



**Câu 2: Điền số thích hợp vào chỗ chấm:**

Thứ hai tuần trước	Thứ ba tuần này	Thứ ba tuần sau
Ngày ... tháng ...	Ngày 20 tháng 4	Ngày ... tháng ...

**Câu 3: Viết tiếp vào chỗ chấm:**

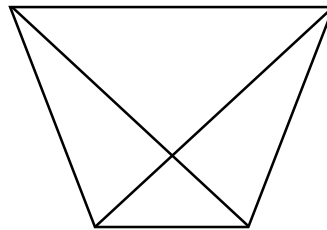
- a) 14 giờ hay ... giờ chiều                      b) 5 giờ chiều hay ... giờ  
c) 20 giờ hay ... giờ tối                         d) 8 giờ tối hay ... giờ

**Câu 4: Mai cắt được 13 bông hoa. Mai cắt được nhiều hơn Hà 5 bông hoa. Hỏi Hà cắt được mấy bông hoa?**

- A. 13 bông hoa                      B. 18 bông hoa                      C. 8 bông hoa                      D. 5 bông hoa

**Câu 5: Trong hình vẽ dưới đây có mấy hình tam giác?**

- A. 5 hình tam giác  
B. 6 hình tam giác  
C. 7 hình tam giác  
D. 8 hình tam giác



**Câu 6: Nếu hôm nay là thứ tư ngày 23 tháng 9. Thứ tư tuần trước là ngày:**

- A. 30 tháng 9                      B. 29 tháng 9                      C. 16 tháng 9                      D. 17 tháng 9

**Phần 2. Tự luận**

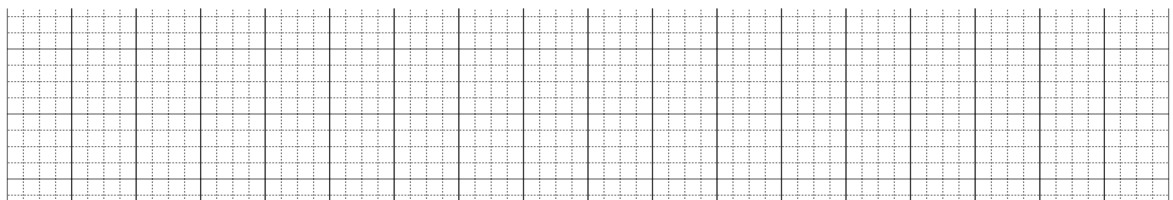
**Bài 1: Đặt tính rồi tính**

$$29 + 45$$

$$79 + 9$$

$$43 - 9$$

$$100 - 36$$



**Bài 2: Thực hiện dãy tính**





Thứ sáu ngày 13 tháng 3 năm 2020

**Toán**


**Phần 1. Trắc nghiệm**

**Câu 1:** Nối các phép tính có kết quả giống nhau

$36 + 45$
$57 + 18$
$52 - 19$

$50 + 7 + 18$
$52 - 10 - 9$
$45 + 36$

**Câu 2:** Điền số thích hợp vào ô trống?



**Câu 3:** Mỗi con chim có 2 chân. Hỏi 8 con chim có bao nhiêu chân?

- A. 14 chân      B. 10 chân      C. 16 con chim      D. 16 chân

**Câu 4 :**  $68 - \dots = 32 + 27$ . Số cần điền vào chỗ trống là:

- A. 59      B. 19      C. 09      D. 9

**Câu 5:** So sánh x và y biết:  $x - 18 = 62$  và  $17 + y = 91$

- A.  $x = y$       B.  $x > y$       C.  $x < y$       D. Không so sánh được

**Câu 6 :** Tổng của hai số là số lớn nhất có hai chữ số khác nhau. Số hạng thứ hai là 35, số hạng thứ nhất là :

- A. 89      B. 99      C. 64      D. 63

**Phần 2 : Tự luận**

**Bài 1 :** Đặt tính rồi tính

$100 - 8$

$56 + 24$

$60 - 29$

$27 + 42$

--	--	--	--

**Bài 2 :** Thực hiện dãy tính

$100 - 26 - 45$

$4\text{kg} \times 9 + 34$

$56\text{cm} - 3\text{cm} \times 9$

--	--	--	--

**Bài 3 :** Tìm x

$$x - 23 = 50 - 15$$

$$x + 16 = 46 - 29$$

$$90 - x = 4 \times 8$$

A large grid of graph paper with a central vertical line and horizontal lines, divided into four quadrants. The grid is composed of small squares, with the central vertical line and horizontal lines being slightly thicker than the others. The grid is intended for plotting a graph.

**Bài 4 : Lớp 2A có 33 học sinh. Lớp 2B ít hơn lớp 2A là 5 học sinh. Hỏi lớp 2B có bao nhiêu học sinh ?**

## Tóm tắt

## Bài giải

[illegible]

**Bài 5 : Mỗi túi có 5 kg gạo, mẹ mua 4 túi như thế. Hỏi mẹ mua tất cả bao nhiêu ki-lô-gam gạo ?**

## Tóm tắt

## Bài giải

[illegible]

**Bài 6 :** Thừa số thứ nhất là 2, thừa số thứ hai là số liền trước của số lớn nhất có một chữ số. Tính tích của hai số đó.

[illegible]